



# TIENDA DE CACTUS

## FUNCIÓN COGNITIVA: CÁLCULO

Hemos decidido poner un poco de orden en la tienda de cactus. Ahora nos falta saber cuántos cactus tenemos de cada tipo. Une cada grupo al número que le corresponda.



1



2



3



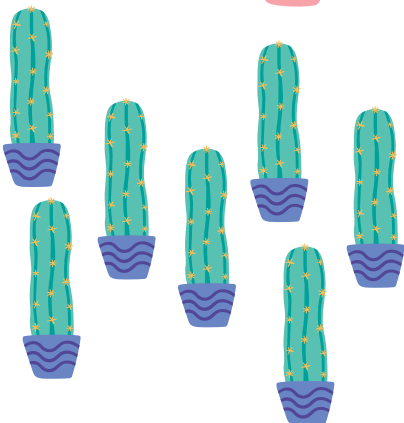
4



5



6



7



8

